

1 景子さんは、社会科学習のまとめとして、沖縄の文化について調べることにした。次のレポートと資料は、そのときに作成したもの的一部である。後の(1)~(5)の問いに答えなさい。

レポート

テーマ：沖縄の文化について

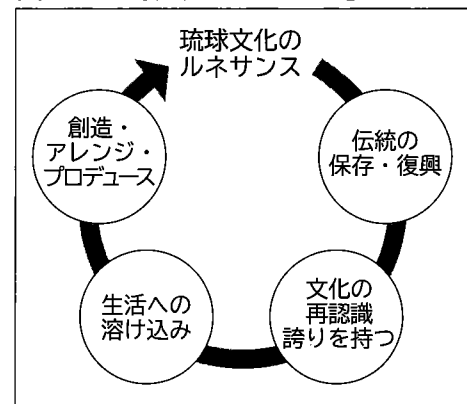
《テーマ設定の理由》

夏休みに家族で沖縄県那覇市に行った際に、琉球王国の中心となった王城である□i□城の復元現場を見学し、<sup>(a)</sup>沖縄の文化について興味を持ったから。<sup>(b)</sup>

《調べて分かったこと》

- ・沖縄の文化の中には、琉球王国の時代に形成された文化がもともっているものがある。
- ・沖縄県を訪れる観光客は、<sup>びんがた</sup>紅型（沖縄の伝統的な染物）や琉球民謡など、独自性のある文化に触れることができる。<sup>(c)</sup>
- ・図Aに示した「琉球文化のルネサンス」は、2019年の□i□城の焼失をきっかけに、改めて沖縄の文化の価値が再認識されたことを受けて、沖縄県が中心となって進めている取組である。この取組は、□ii□を目指していると考えられ、図Bのような具体的な取組も行われている。

図A 「琉球文化のルネサンス」について




(沖縄県ホームページにより作成)


図B 「琉球文化のルネサンス」についての具体的な取組例

伝統的な紅型のデザインを、生活用品など様々な製品に利用


紅型のデザイン例



紅型のデザインを利用した製品の例



タンブラー



エプロン

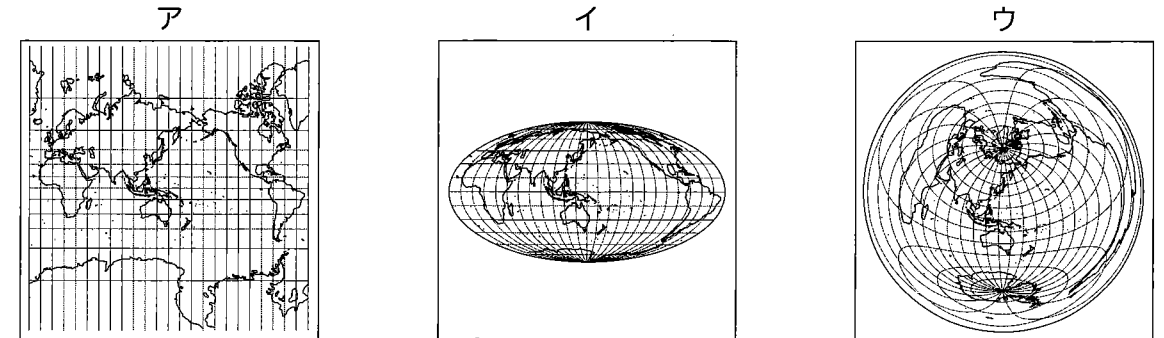
(琉球びんがた普及伝承コンソーシアムホームページなどにより作成)

《まとめ》

沖縄の人々は、独自性のある自分たちの文化を大切にしていることが分かった。私たちも、自分たちの住む地域の伝統文化を大切にしていきたいと、改めて思った。

(1) レポート中の□i□に当てはまる語を書きなさい。

(2) 下線部(a)に関して、景子さんは、前橋市と那覇市の位置関係を正確に説明するために、「前橋市を中心として那覇市への距離と方位を正しく表した地図」を活用しようと考えた。このような場合に用いるのに適した特徴を持つ地図はどれか、次のア~ウから1つ選びなさい。



(3) 下線部(b)について、景子さんは、琉球王国の歴史を調べる中で、資料Iを見つけた。資料I中の鐘が作られた頃の琉球王国の説明として適切なものを、次のア~エから1つ選びなさい。

ア 幕府の将軍が代わるごとに、幕府へ使節を派遣した。

イ 日本や中国、朝鮮、東南アジアの国々を結ぶ中継貿易で栄えた。

ウ ハングルという文字が作られ、幕府や守護大名との貿易も行われた。

エ 長崎奉行の監督のもとで日本との貿易を行い、日本に海外の情勢を報告した。

資料I 15世紀に作られた万国津梁の鐘と鐘に刻まれた文

琉球国は…船をもって万国のかけ橋となり、外国の産物や宝物が至る所に満ちている…。(部分要約)

(4) 下線部(c)について、景子さんは、レポート作成後、沖縄県を訪れる観光客について興味を持ち、資料IIを作成した。資料IIについて述べた、以下のX、Yの正誤の組み合わせとして適切なものを、後のア~エから選びなさい。

資料II 沖縄県を訪れた観光客数と観光収入

	1978年	1988年	1998年	2008年	2018年
観光客数(万人)	150	240	413	605	985
観光収入(億円)	1,110	2,158	3,527	4,365	7,257

(沖縄県ホームページにより作成)

X 2018年の観光客数は、1978年の観光客数の8倍以上となっていることを読み取ることができる。

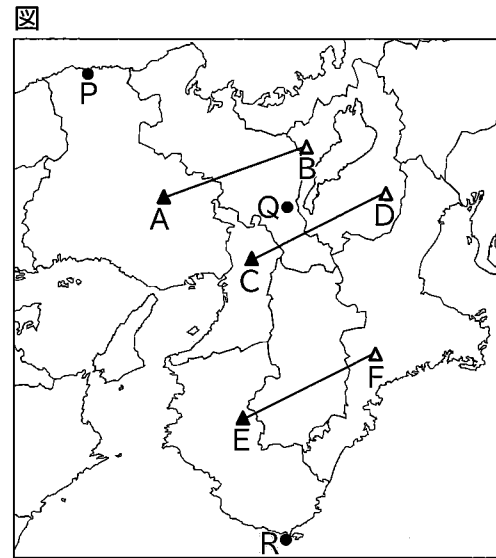
Y 資料IIで示された観光収入の10年ごとの増加の割合は、1978年から1988年の間が最も大きいことを読み取ることができる。

ア 【X：正 Y：正】      イ 【X：正 Y：誤】

ウ 【X：誤 Y：正】      エ 【X：誤 Y：誤】

(5) レポート中の□ii□に当てはまる文を、図Aと図Bを参考にして、簡潔に書きなさい。

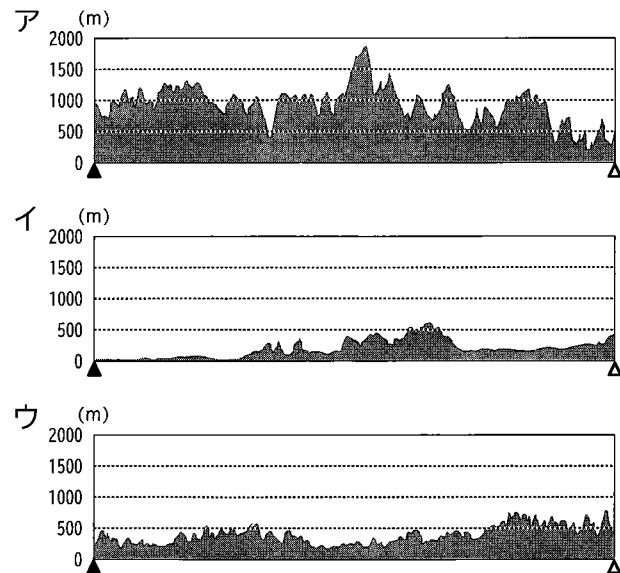
2 恵さんは、日本の諸地域の学習において、近畿地方の自然環境や産業、都市について調べ、発表した。次の図と資料は、そのときに使用したものの一部である。後の(1)~(4)の問いに答えなさい。



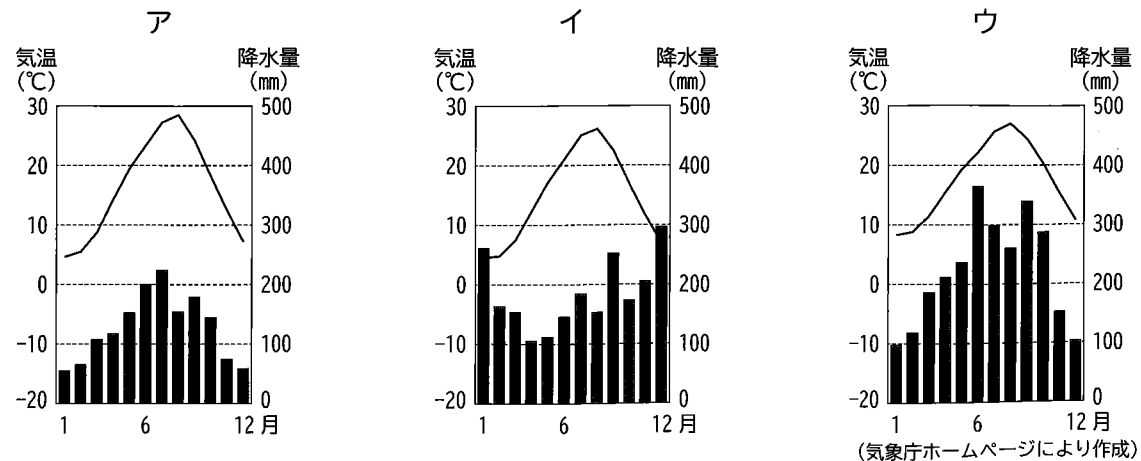
資料 I

自然環境	・地形や気候に注目すると、北部・中央部・南部で異なる特徴が見られる。 (a) (b)
産業	・紀伊山地は、日本有数の林業地として栄えてきた。 ・阪神工業地帯は、戦後の日本経済を支えてきた。 (c)
都市	・1960年代頃から、大都市周辺に新たな住宅地であるニュータウンが建設された。 (d)

(1) 下線部(a)に関して、右のア~ウは、図中のA-B, C-D, E-Fのいずれかの断面を模式的に表した図である。C-Dの断面を表した図を、右のア~ウから1つ選びなさい。

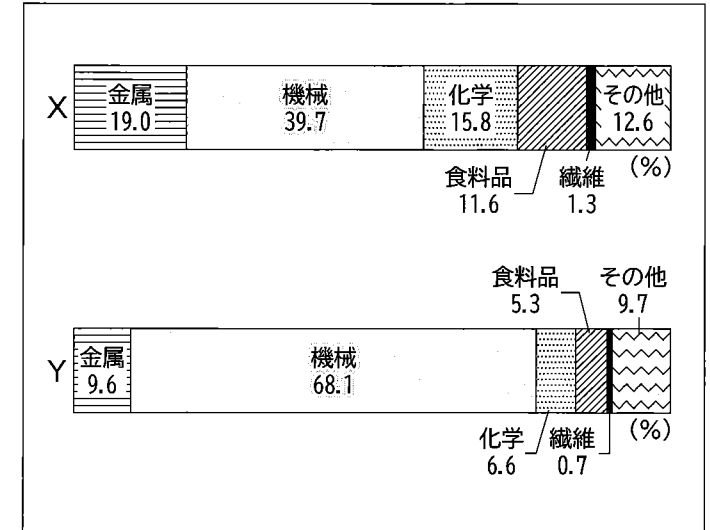


(2) 下線部(b)に関して、次のア~ウは、図中のP~Rのいずれかの地点の気温と降水量のグラフである。Qの地点に当たるものを、次のア~ウから1つ選びなさい。



(3) 下線部(c)に関して、恵さんは、阪神工業地帯の特徴について知るために、製造品出荷額が国内最大である中京工業地帯と比較することにした。資料IIのXとYは、阪神工業地帯、中京工業地帯のいずれかを示している。また、カード1とカード2は、それぞれいずれかの工業地帯について説明した文である。阪神工業地帯に当てはまる組み合わせとして適切なものを、後のア~エから選びなさい。

資料II 阪神工業地帯と中京工業地帯の製造品出荷額の割合(2020年)



カード1  
内陸部では、中小企業の町工場が多くあり、日用品のほか、精密な部品などが製造されています。臨海部では、工場跡地の再開発により、物流施設やオフィスビルなどが建設されています。

カード2  
以前は繊維工業が盛んでしたが、現在では、その技術を活用し、地域全体で自動車生産が行われています。臨海部には、製鉄所や石油化学コンビナートなどの工場が集まっています。

ア 資料II : X 説明 : カード1      イ 資料II : X 説明 : カード2  
ウ 資料II : Y 説明 : カード1      エ 資料II : Y 説明 : カード2

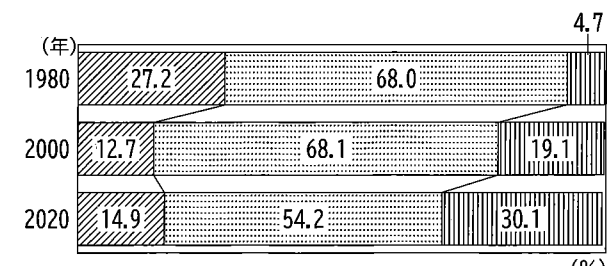
(4) 下線部(d)に関して、次の①, ②の問いに答えなさい。

① 恵さんは、ニュータウンが建設された理由を調べ、次のようにまとめた。文中の□に当てはまる文を、簡潔に書きなさい。

1960年代頃の大都市圏では、□ことにより住宅地が不足したため、新しい住宅地が建設されました。

② 恵さんは、近年のニュータウンで行われている取組について興味を持ち、大阪府の千里ニュータウンを例に、次の資料IIIと資料IVを作成した。千里ニュータウンが抱えている課題と、目指しているまちづくりについて、資料IIIと資料IVから読み取れることを踏まえて、書きなさい。

資料III 千里ニュータウンの年齢別人口割合の推移



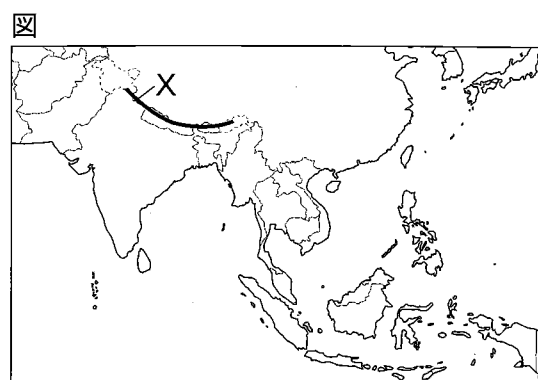
※ 年齢不詳人口の割合については示していないため、合計が100%になっていない。  
(吹田市ホームページにより作成)

資料IV 千里ニュータウンの主な取組

千里ニュータウンでは、子育て世代や高齢者向けのセミナーを開催したり、子育て世帯や高齢者などの世代間交流イベント等を行ったりしています。また、住宅建て替え時のバリアフリー化を進めているほか、ファミリー向け住宅に関する情報提供も行っています。

3 大樹さんは、世界の諸地域の学習において、アジア州について学習し、東南アジアと南アジアの国々について調べたことをまとめ、発表した。次の図、レポート、資料は、そのときに使用したものの一部である。次の(1)~(4)の問いに答えなさい。

(1) 図中のXは、世界で最も標高が高い山であるエベレスト山がある山脈である。Xの山脈名を書きなさい。



(2) 大樹さんは、東南アジアと南アジアの気候を調べ、次のように説明した。文中の□i□, □ii□に当てはまる語の組み合わせとして適切なものを、後のア~エから選びなさい。

東南アジアや南アジアでは、降水量が多い雨季と少ない乾季が見られます。雨季には、□i□から吹く傾向がある□ii□風により、降水量が多くなります。

- ア i:海 ii:季節    イ i:海 ii:偏西  
ウ i:陸 ii:季節    エ i:陸 ii:偏西

(3) 大樹さんは、東南アジアと南アジアの農業について、次のレポートを作成した。後の①, ②の問いに答えなさい。

レポート

<東南アジアと南アジアの農業について>

■ 東南アジアの農業

東南アジアでは、プランテーションと呼ばれる大農園で、輸出を目的とした農産物が生産されています。右に示した主要な農産物の2021年における各国の生産量は、インドネシアが世界1位、マレーシアが世界2位です。

主要な農産物

イラスト	特徴
	A

■ 南アジアの農業

南アジアでは穀物の生産が盛んで、ガンジス川下流域では、多くの□iii□が栽培されています。インドでは、右のグラフに示された状況に対応するために、□iv□取組が行われています。

インドの人口の推移

(総務省ホームページにより作成)

① レポート中のAに当てはまる、主要な農産物の特徴についての説明文として適切なものを、次のア~ウから1つ選びなさい。

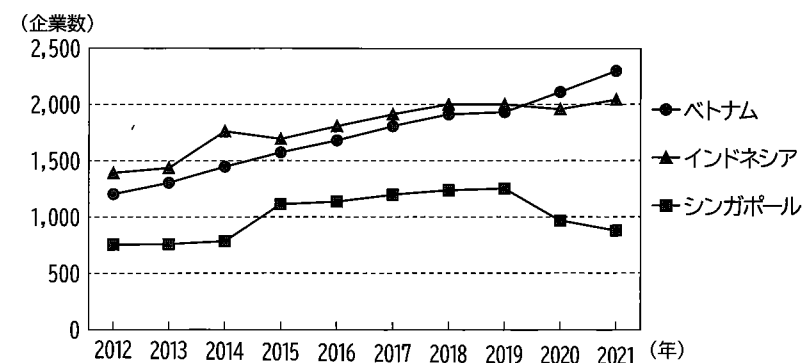
- |   |   |  |
|---|---|--|
| <p>ア</p> <p>果実から採れる多数の種子を乾燥させたものが、チョコレートの原料となります。</p> | <p>イ</p> <p>種子に付いている白い綿毛を繊維に加工することで、衣服の原料となります。</p> | <p>ウ</p> <p>果実は油分が多く、植物油やマーガリン、せっけんの原料となります。</p> |
|---|---|--|

② レポート中の□iii□に当てはまる語と、□iv□に当てはまる文の組み合わせとして適切なものを、次のア~エから選びなさい。

- ア iii:米    iv:品種改良や化学肥料の使用で穀物の生産を増やす  
イ iii:米    iv:パンパと呼ばれる広大な平原を活用して穀物を生産する  
ウ iii:小麦    iv:品種改良や化学肥料の使用で穀物の生産を増やす  
エ iii:小麦    iv:パンパと呼ばれる広大な平原を活用して穀物を生産する

(4) 大樹さんは、東南アジアに日本企業が進出していることについて調べる中で、資料Iと資料IIを見つけた。資料Iと資料IIから読み取れることに着目し、ベトナムとインドネシアに進出している日本企業数の推移の特徴を、シンガポールと比較しながら、簡潔に書きなさい。

資料I ベトナム、インドネシア、シンガポールに進出している日本企業数の推移



(外務省ホームページにより作成)

資料II 従業者の1か月当たりの平均賃金(米ドル)

国名	2012年	2021年
ベトナム	180	291
インドネシア	151	176
シンガポール	2,785	3,484

(国際労働機関ホームページにより作成)

4 正さんは、日本の各時代における人々の生活や文化の特徴について調べたことをまとめ、発表した。次の資料は、そのときに使用したものの一部である。後の(1)~(5)の問いに答えなさい。

資料Ⅰ 日本の各時代における人々の生活や文化の特徴

古墳時代	朝鮮半島や中国から移り住んできた人々である渡来人は、大和政権(ヤマト王権)において外交や財政の管理などで活躍し、 <u>多くの技術や文化を伝えました。</u> (a)
平安時代	摂関政治の頃には、日本の風土や日本の貴族の生活に合わせた文化が生まれました。このような文化が生まれた背景の一つには、 <u>遣唐使の派遣が停止されたことが挙げられます。</u> (b)
室町時代	幕府が鎌倉から京都に移ったことにより、 <u>武士の文化と貴族の文化が混じり合った文化が現れました。</u> また、民衆の間でも、 <u>現代にもつながる文化や習慣が生まれました。</u> (c)
江戸時代	三都と呼ばれた江戸・大阪・京都は、交通と産業の発達などにより大きく発展しました。 <u>このような三都の繁栄を背景として、町人や庶民を担い手とする文化が生み出されました。</u> (d) (e) にな

(1) 下線部(a)に関して、古墳時代に初めて日本に伝えられたものを、次のア~エから1つ選びなさい。

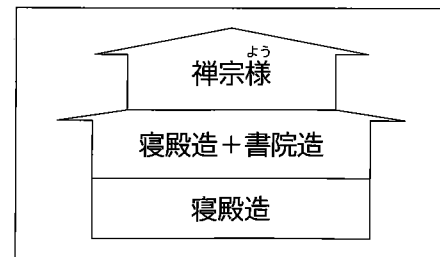
- ア 稲作    イ 仏教    ウ 銅鐸    エ 磨製石器

(2) 下線部(b)について、正さんは次のように説明した。文中の□iに当てはまる文を、当時の中国の王朝の状況に着目して、簡潔に書きなさい。

遣唐使の派遣の停止は、菅原道真による提案がきっかけだと考えられています。菅原道真が遣唐使の派遣の停止を提案した主な理由は、□iことにより、往復の航海で多くの危険をおかしてまで公的な使者を派遣する必要がないと考えたからです。

(3) 下線部(c)について、正さんは資料Ⅱを用いて次のように説明した。文中の□ii, □iiiに当てはまる語の組み合わせとして適切なものを、後のア~エから選びなさい。

資料Ⅱ



※ 禅宗様とは、禅宗の寺に多く用いられた建築様式のことである。

室町時代に建てられた□iiには、資料Ⅱのように武士の文化と貴族の文化が組み合わされた建築の様式が取り入れられています。また、幕府の保護を受けた観阿弥・世阿弥によって大成された□iiiは、民衆にも親しまれました。


- ア ii: 金閣 iii: 能    イ ii: 金閣 iii: 歌舞伎  
ウ ii: 銀閣 iii: 能    エ ii: 銀閣 iii: 歌舞伎

(4) 下線部(d)に関して、大阪や京都では元禄文化が栄えた。この元禄文化の中で活躍した人物について説明した文として適切なものを、次のア~エから1つ選びなさい。

- ア 本居宣長が、「古事記伝」を書いて国学を大成した。  
イ 狩野永徳が、ふすまや屏風などにきらびやかな色彩の絵を描いた。  
ウ 千利休が、質素で静かな雰囲気を作るわび茶を完成させた。  
エ 近松門左衛門が、義理と人情を題材とした人形浄瑠璃の脚本を書いた。


(5) 下線部(e)に関して、正さんは江戸時代の問屋制家内工業による生産の様子を示した資料Ⅲと、工場制手工業による生産の様子を示した資料Ⅳを用いて、それぞれの特徴について説明することにした。工場制手工業の特徴を、資料Ⅲと資料Ⅳを比較しながら、書きなさい。

資料Ⅲ 農家ででの織物生産の様子(問屋制家内工業)



(「河内名所図会」により作成)

資料Ⅳ 工場での織物生産の様子(工場制手工業)



(「尾張名所図会」により作成)

5 里歩さんは、海外諸国を訪問した経験のある人物が、日本の社会でどのような業績を残したかについて調べることにした。次のカードと資料は、そのときに作成したもの的一部分である。後の(1)~(4)の問いに答えなさい。

カードⅠ 福沢諭吉



「西洋事情」を書いて、欧米の制度や文化を日本に紹介しました。慶應義塾けいおうぎじゅくの設立や「」を執筆するなど、日本の近代化に貢献しました。

カードⅡ 渋沢栄一



富岡製糸場や500以上の民間企業の設立に携わりました。資本主義の発展(a)に貢献したことから、「日本資本主義の父」と呼ばれています。

カードⅢ 吉野作造



大正デモクラシーを(b)象徴する政治学者です。政治に民衆の意見を反映すべきとする民本主義を主張し、多くの人々に影響を与えました。

カードⅣ 吉田茂



の制定などの戦後改革が次々と進められた激動の時代に、首相として指揮を執りました。戦後の日本の発展の基礎(c)を築いた人物の一人です。

(1) カードⅠ中のとカードⅣ中のに当てはまる語の組み合わせとして適切なものを、次のア~エから選びなさい。

- ア i : 舞姫            ii : 治安維持法            イ i : 舞姫            ii : 教育基本法  
ウ i : 学問のすゝめ   ii : 治安維持法            エ i : 学問のすゝめ   ii : 教育基本法

(2) 下線部(a)に関して、資料Ⅰは、資本主義の発展の中で発生した労働者の社会問題を背景に制定された法律である。この法律が制定された背景を、簡潔に書きなさい。

資料Ⅰ 工場法

第3条 工場主は、15歳未満の者および女子を、1日に12時間を超えて労働させてはならない。  
第7条 工場主は、15歳未満の者および女子に対し、…1日の就業時間が6時間を超えるときは少なくとも30分、10時間を超えるときは少なくとも1時間の休憩時間を設けなければならない。  
(部分要約)

(3) 下線部(b)について、大正時代の政治の情勢について説明した文として適切なものを、次のア~エから1つ選びなさい。

- ア 自由民主党を与党、日本社会党を主要野党とする55年体制が始まった。  
イ 大隈重信が、イギリスのような議会政治を目指して立憲改進黨をつくった。  
ウ 国が一丸となるための強力な政治体制をつくる運動が起こり、大政翼賛会が結成された。  
エ 憲法に基づく政治を守ることをスローガンとする護憲運動が高まる中、桂太郎内閣は退陣した。

(4) 下線部(c)に関して、里歩さんは、資料Ⅱを用いて、戦後の日本の情勢について発表した。里歩さんの発表メモのには当てはまる都市名を、には当てはまる語句をそれぞれ書きなさい。

発表メモ

資料Ⅱは、1951年ににて開かれた会議において、吉田茂首相が48か国の国々との間で結んだ平和条約に調印している場面です。この条約によって、日本は独立を回復しました。  
独立を回復した日本では、1950年代後半から高度経済成長を迎え、人々の生活水準が急速に高まりました。しかし、1973年の第四次中東戦争の影響を受け、が起こったことにより、深刻な不況に陥りました。このことは、高度経済成長が終わる1つの要因となりました。

資料Ⅱ



6 誠さんのクラスでは、「私たちの暮らしと経済」というテーマで班ごとに調べた内容をまとめ、発表した。次のカードと資料は、そのときに使用したものの一部である。後の(1)~(5)の問いに答えなさい。

A班のカード

【社会保障制度について】

日本の社会保障制度は、社会保険、公的扶助、<sup>(a)</sup> 社会福祉、公衆衛生の4つを基本的な柱としています。

B班のカード

【契約と消費生活について】

私たちの消費生活は、売る側と買う側の契約<sup>(b)</sup>によって成り立っています。誰と、どのような内容の契約を結ぶのかは、基本的に自由です。

C班のカード

【需要・供給と価格との関係について】

商品が自由に売買される場を「あ」といいます。「あ」経済では、価格が商品の需要と供給<sup>(c)</sup>との関係を示す指標の動きをしています。

D班のカード

【企業の目的について】

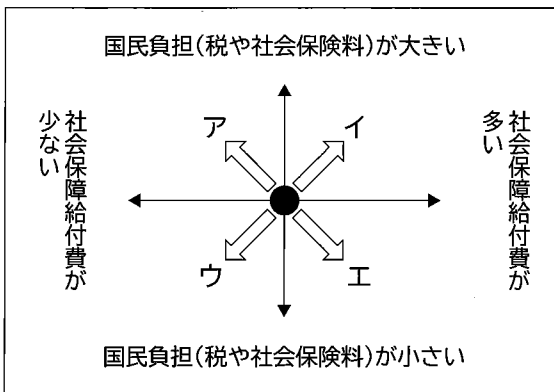
企業の目的の1つに、利潤をできるだけ大きくすることが挙げられます。そのために、「効率」<sup>(d)</sup>という観点が必要です。

(1) 「あ」に当てはまる語を書きなさい。

(2) 下線部(a)に関して、A班は資料Iを作成し、次のように説明した。文中の「i」に当てはまる記号を、資料I中のア~エから1つ選びなさい。

資料I

資料Iは、日本の社会保障の在り方について、税や社会保険料といった国民負担を縦軸にとり、社会保障給付費を横軸にとって図式化したものです。現在の社会保障の状況を資料I中の●の位置としたとき、公的医療保険の保険料を引き下げて、医療機関で支払う医療費の自己負担の割合を大きくした場合、●は「i」の部分に移動することになると考えられます。



(3) 下線部(b)について、契約に関する記述X、Yの正誤の組み合わせとして適切なものを、後のア~エから選びなさい。

X 商品の買い手と売り手の契約には、契約書を交わさず、口頭で合意する場合もある。

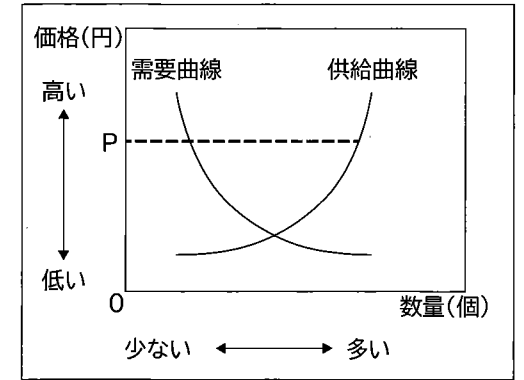
Y クーリング・オフ制度とは、契約後一定の期間内であれば、手数料を支払って契約を解除できる制度である。

ア 【X：正 Y：正】      イ 【X：正 Y：誤】

ウ 【X：誤 Y：正】      エ 【X：誤 Y：誤】

(4) 下線部(c)に関して、C班は、ある商品の価格と需要・供給の関係を模式的に表した資料IIを用いて、価格がPのときの状況と、価格がその後どのように変化するかについて説明した。価格がPのときの状況とその後価格の変化として適切なものを、次のア~エから1つ選びなさい。

資料II



- ア 需要量が供給量よりも多いため、価格は上昇する。
- イ 需要量が供給量よりも多いため、価格は下落する。
- ウ 供給量が需要量よりも多いため、価格は上昇する。
- エ 供給量が需要量よりも多いため、価格は下落する。

(5) 下線部(d)に関して、D班は近所のラーメン店にインタビューを行い、その内容について資料III~資料Vを作成し、次のように説明した。文中の「ii」に当てはまる文を、資料III~資料Vを参考に、「効率」という語を用いて、簡潔に書きなさい。

私たちがインタビューしたラーメン店は、来店したお客に記入してもらう受付用紙を、資料IIIから資料IVのように変更しました。受付用紙を変更した理由は、資料IVのような受付状況のときに、店内が資料Vのような座席の状況になった場合、「ii」できると考えたからです。実際に、受付用紙を変更したことで、お店の売り上げが増え始めると店長は言っていました。

資料III 変更前の受付用紙

番号	お名前	人数
1	タナカ	4
2	サトウ	2
3		

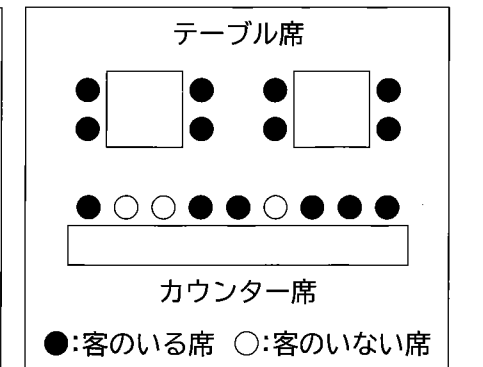
※ 番号順にご案内いたしますので、お名前を書いてお待ちください。

資料IV 変更後の受付用紙

番号	お名前	ご希望の座席	人数
1	タナカ	テーブル席 カウンター席 どちらでも良い	4
2	サトウ	テーブル席 カウンター席 どちらでも良い	2
3		テーブル席 カウンター席 どちらでも良い	

※ ご希望の座席を踏まえてご案内しますので、順番が前後することがございます。

資料V ある日のラーメン店の状況



7 次の会話文は、桃花さんたちの班が、「選挙と民主主義」というテーマで、これまでに学習した内容のまとめを行ったときに交わされたものの一歩である。後の(1)~(5)の問いに答えなさい。

会話文

桃花：選挙は、有権者としての意思を政治に反映させることができる貴重な機会だと授業で勉強したね。

明美：そうだね。日本では、原則満18歳以上の国民なら誰でも投票できるから、15歳の私たちは、あと3年ほどで投票に行くことができるよ。

桃花：有権者が投票しやすくなる制度についても学んだね。例えば、日本では、投票日に仕事や用事がある投票所に行けない人の状況を考慮して、という制度が設けられているよ。

直樹：選挙によって私たちの代表者を選び、その人たちが物事を話し合って決める制度のことを間接民主制といったね。

明美：日本では、国民の意思を直接反映させる、直接民主制の考え方も取り入れられているよ。

桃花：選挙で選ばれた代表者は、その後どのような活動を行うのかな。

直樹：例えば国会議員であれば、国会で法律案や予算について審議し、議決を行っているよ。はじめに、分野別に数十人の国会議員からなるで審議し、その後、本会議で議決されるんだよ。

明美：国会には様々な政党に所属する国会議員がいるから、意見が対立することもあるよね。

桃花：社会には、いろいろな意見があるので、私たちも、将来有権者として自分でしっかりと判断していく必要があるね。

(1) 下線部(a)について、この原則のことを何というか、次のア~エから1つ選びなさい。

- ア 普通選挙    イ 平等選挙    ウ 直接選挙    エ 秘密選挙

(2) ,  に当てはまる語の組み合わせとして適切なものを、次のア~エから選びなさい。

- ア A：期日前投票    B：特別会  
 イ A：期日前投票    B：委員会  
 ウ A：インターネット投票    B：特別会  
 エ A：インターネット投票    B：委員会

(3) 下線部(b)に関して、日本における、直接民主制の考え方を取り入れた制度として適切なものを、次のア~エから1つ選びなさい。

- ア 国政調査権に基づき、国の政治について調査すること。  
 イ 内閣不信任の決議を行い、内閣の政治責任を問うこと。  
 ウ 裁判官を辞めさせるかどうかを判断する弾劾裁判に参加すること。  
 エ 最高裁判所の裁判官がその職にふさわしいかどうか、審査を行うこと。

(4) 下線部(c)に関して、桃花さんたちの班は、国会議員の活動について説明するために、資料Iを作成した。資料Iの架空の国会議員は参議院議員である。参議院議員であると判断できる理由を、簡潔に書きなさい。

資料I 架空の国会議員のプロフィール

群馬はなえ (◇◇党所属)		〈経歴〉(2024年2月現在)		
〈主な活動〉	・初当選以降、自然災害から国民の命と暮らしを守るために、防災対策の強化に取り組んでいます。	2001年3月	22歳	□□大学卒業
	・人工知能を活用した防災対策の実現に関するプロジェクトチームを立ち上げ、座長を務めています。	2001年4月	22歳	株式会社▽▽入社
		2013年7月	34歳	比例代表で初当選
		2019年7月	40歳	比例代表で2回目の当選
		2019年7月	40歳	1期目の任期が満了

(5) 下線部(d)に関して、桃花さんたちの班は、資料IIと資料IIIを作成して、次のように説明した。文中のに当てはまる文を、「議席」という語を用いて、簡潔に書きなさい。

政党の目的の1つに、政権を獲得し、政策を実現することが挙げられます。例えば、衆議院と参議院における各政党の獲得議席数が資料IIのようになったと仮定すると、X党が政権を担当するためには、資料IIIで政策①と政策④で共通した考え方を示しているZ党と連立政権を組むことが考えられます。X党とZ党が連立政権を組むと、ため、X党とZ党は政策を実現しやすくなります。

資料II 各政党の獲得議席数

	V党	W党	X党	Y党	Z党
衆議院における獲得議席数(定数465)	7	205	214	11	28
参議院における獲得議席数(定数248)	5	95	121	8	19

資料III それぞれの政策に対する各政党の考え方

	V党	W党	X党	Y党	Z党
政策①	△	×	◎	△	◎
政策②	◎	◎	×	○	△
政策③	○	○	△	◎	×
政策④	×	△	○	×	○

- ◎…賛成  
 ○…どちらかといえば賛成  
 △…どちらかといえば反対  
 ×…反対

※ 資料IIと資料IIIに示した各政党は、架空の政党である。



社会 [令和6]

大問 (配点)	正 答
1 (16)	(1) 首里 (2) ウ (3) イ (4) ウ (5) [例] 伝統文化を生かしながら、身近な生活と関連付け、新しいものを創造すること
2 (14)	(1) イ (2) ア (3) ア (4) ① [例] 人口が増加した ② [例] 少子高齢化という課題を抱えており、子育て世帯や高齢者などが住みやすいまちづくりを目指している。
3 (15)	(1) ヒマラヤ山脈 (2) ア (3) ① ウ ② ア (4) [例] 従業員の平均賃金が低いベトナムやインドネシアでは、平均賃金が高いシンガポールに比べ、進出している日本企業の数が増加傾向にある。
4 (15)	(1) イ (2) [例] 唐が衰えた (3) ア (4) エ (5) [例] 個々の家において生産する問屋制家内工業とは異なり、働き手を1つの工場に集めて分業で生産する。
5 (14)	(1) エ (2) [例] 子供や女性を含む労働者が、長時間労働を行っていた。 (3) エ (4) iii サンフランシスコ iv 石油危機 (オイル・ショック)
6 (13)	(1) 市場 (2) ウ (3) イ (4) エ (5) [例] 後ろのお客を先に案内することで、効率よく座席を活用
7 (13)	(1) ア (2) イ (3) エ (4) [例] 任期が6年で満了となっているため。 (5) [例] 衆議院と参議院で定数の過半数の議席を確保できる